

Nome: \_\_\_\_\_

Data: \_\_\_\_/\_\_\_\_/\_\_\_\_



# SEQUÊNCIAS NUMÉRICAS COM REGULARIDADE



Observe, descubra a regra e complete.

OBSERVE AS SEQUÊNCIAS, DESCUBRA A REGRA E  
COMPLETE OS NÚMEROS QUE FALTAM.

1. 4 - 8 - 12 - \_\_\_\_\_ - \_\_\_\_\_

Regra: \_\_\_\_\_

---

2. 30 - 27 - 24 - \_\_\_\_\_ - \_\_\_\_\_


Regra: \_\_\_\_\_

---

3. 15 - 20 - 25 - \_\_\_\_\_ - \_\_\_\_\_

Regra: \_\_\_\_\_

---




Nome: \_\_\_\_\_

Data: \_\_\_/\_\_\_/\_\_\_



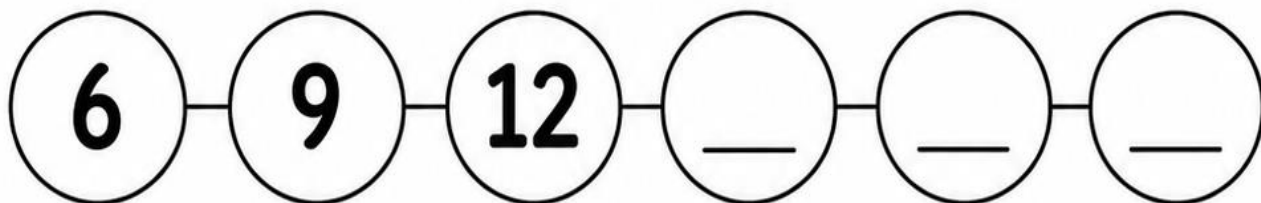
# A TRILHA DOS PULOS



Descubra o padrão e complete.

LEIA AS SITUAÇÕES, DESCUBRA A REGULARIDADE E COMPLETE A TRILHA.

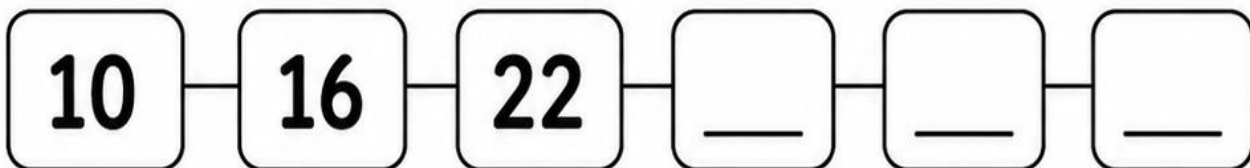
- 1.** A coelhinha Nina pula de 3 em 3 casas.  
Ela começou no número 6. Complete a trilha.



Minha estratégia: \_\_\_\_\_

Resposta: \_\_\_\_\_

- 2.** O robô Tico anda sempre somando 6.  
Ele começou no número 10. Complete.



Minha estratégia: \_\_\_\_\_


Resposta: \_\_\_\_\_

Nome: \_\_\_\_\_

Data: \_\_\_/\_\_\_/\_\_\_



# TABELA DE REGULARIDADES



Observe os números e complete.

**COMPLETE A TABELA OBSERVANDO A REGULARIDADE DOS NÚMEROS.**

Na papelaria da turma, cada cartela tem 5 adesivos.  
Complete a tabela.

Cartelas	1	2	3	4	5	6
Adesivos	5	10	_____	_____	_____	_____

1. De quanto em quanto os números aumentam?

Resposta: \_\_\_\_\_

2. Quantos adesivos há em 6 cartelas?

Resposta: \_\_\_\_\_

Agora observe outra sequência.

50 - 45 - 40 - \_\_\_\_\_ - \_\_\_\_\_ - \_\_\_\_\_

Regra: \_\_\_\_\_

Nome: \_\_\_\_\_

Data: \_\_\_/\_\_\_/\_\_\_



# SEQUÊNCIAS EM SITUAÇÕES-PROBLEMA

Leia, pense e complete.



**RESOLVA OS PROBLEMAS OBSERVANDO A REGULARIDADE DAS SEQUÊNCIAS.**

1. Bia está organizando figurinhas. No primeiro envelope havia 12 figurinhas. Em cada novo envelope, ela colocou 4 figurinhas a mais que no anterior. Complete a sequência.

**12 - 16 - 20 - \_\_\_\_\_ - \_\_\_\_\_**

Estratégia/Cálculo: \_\_\_\_\_

\_\_\_\_\_

Resposta: \_\_\_\_\_

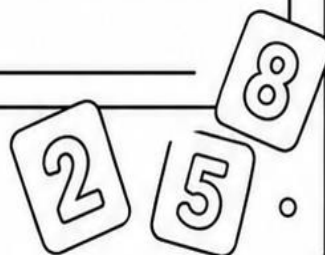

2. Na biblioteca, os livros foram organizados em pilhas. A primeira pilha tinha 36 livros. Depois, cada pilha ficou com 6 livros a menos que a anterior. Complete.

**36 - 30 - 24 - \_\_\_\_\_ - \_\_\_\_\_**

Estratégia/Cálculo: \_\_\_\_\_

\_\_\_\_\_

Resposta: \_\_\_\_\_



Nome: \_\_\_\_\_

Data: \_\_\_/\_\_\_/\_\_\_



# QUAL É O PRÓXIMO NÚMERO?



Descubra a regra e marque X.

DESCUBRA A REGRA DA SEQUÊNCIA E MARQUE X NO PRÓXIMO NÚMERO.

1. 7 - 14 - 21 - 28 - \_\_\_\_

( ) 30

( ) 35

( ) 36

Regra: \_\_\_\_\_

2. 80 - 70 - 60 - 50 - \_\_\_\_

( ) 45

( ) 40

( ) 30

Regra: \_\_\_\_\_

3. 18 - 21 - 24 - 27 - \_\_\_\_

( ) 30

( ) 31

( ) 28

Regra: \_\_\_\_\_

4. 42 - 38 - 34 - 30 - \_\_\_\_

( ) 24

( ) 28

( ) 26

Regra: \_\_\_\_\_



Nome: \_\_\_\_\_

Data: \_\_\_/\_\_\_/\_\_\_

# CRIE SUA SEQUÊNCIA

Agora é sua vez!



**AGORA É SUA VEZ! CRIE E COMPLETE SEQUÊNCIAS COM REGULARIDADE.**

1. Crie uma sequência que aumenta de 4 em 4.  
Comece pelo número 8.

8 - \_\_\_\_\_ - \_\_\_\_\_ - \_\_\_\_\_ - \_\_\_\_\_ - \_\_\_\_\_

Regra: \_\_\_\_\_

2. Crie uma sequência que diminui de 5 em 5.  
Comece pelo número 45.

45 - \_\_\_\_\_ - \_\_\_\_\_ - \_\_\_\_\_ - \_\_\_\_\_ - \_\_\_\_\_

Regra: \_\_\_\_\_

3. Desafio final: observe a sequência e complete.

11 - 22 - 33 - \_\_\_\_\_ - \_\_\_\_\_

Qual é a regra? \_\_\_\_\_

Nome: \_\_\_\_\_

Data: \_\_\_/\_\_\_/\_\_\_



# GABARITO

Sequências Numéricas com Regularidade



## RESPOSTAS ORGANIZADAS POR PÁGINA

### Página 1

1. 16, 20 — somar 4
2. 21, 18 — subtrair 3
3. 30, 35 — somar 5

### Página 2

1. 15, 18, 21 — somar 3
2. 28, 34, 40 — somar 6

### Página 3

Tabela: 15, 20, 25, 30  
Aumentam de 5 em 5.  
Em 6 cartelas há 30 adesivos.  
Sequência: 35, 30, 25 — subtrair 5

### Página 4


1. 24, 28 — somar 4
2. 18, 12 — subtrair 6

### Página 5

1. 35 — somar 7
2. 40 — subtrair 10
3. 30 — somar 3
4. 26 — subtrair 4

### Página 6

1. 12, 16, 20, 24, 28 — somar 4
2. 40, 35, 30, 25, 20 — subtrair 5
3. 44, 55 — somar 11





# DIREITOS AUTORAIS E USO DO MATERIAL

Material gratuito para uso pedagógico

Este material pertence ao site [atividadesdealfabetizacao.com.br](https://atividadesdealfabetizacao.com.br) e é oferecido gratuitamente para apoiar o trabalho dos professores.



Site oficial: <https://atividadesdealfabetizacao.com.br/>

## ✓ VOCÊ PODE

- ✓ Baixar e imprimir para usar com seus alunos.
- ✓ Utilizar em sala de aula, reforço escolar e tarefas pedagógicas.
- ✓ Compartilhar com outros professores apenas o link oficial do blog.



## ✗ NÃO É PERMITIDO

- ✗ Vender, revender ou incluir este material em produtos pagos.
- ✗ Publicar o PDF completo em sites, blogs, grupos, drives ou redes sociais.
- ✗ Remover créditos, logotipo, endereço do site ou marcas de autoria.
- ✗ Alterar o material e redistribuir como se fosse de sua autoria.
- ✗ Copiar as atividades para criar apostilas, cursos ou novos arquivos para distribuição.



Gratidão por respeitar os direitos autorais  
e valorizar a criação de materiais educativos gratuitos.

