

VAMOS JUNTAR?

MATEMÁTICA - 1º ANO


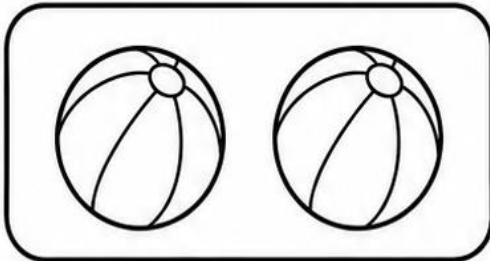


JUNTAR É COLOCAR DUAS
QUANTIDADES PERTINHO PARA
DESCOBRIR O TOTAL.



★ OBSERVE OS DESENHOS. CONTE COM CALMA.

1



EU TENHO 2 BOLINHAS.

GANHEI MAIS 1 BOLINHA.



QUANTAS BOLINHAS TENHO AO TODO?

$$2 + 1 = \underline{\quad}$$

TENHO BOLINHAS AO TODO.

2

CONTE E COMPLETE.



$$2 + 2 = \underline{\quad}$$

HÁ ESTRELAS AO TODO.



1



JUNTANDO FRUTAS



MATEMÁTICA - 1º ANO



JUNTAR É COLOCAR DUAS
QUANTIDADES PERTINHO PARA
DESCOBRIR O TOTAL.



1



NA CESTA HÁ 3 MAÇÃS.



LIA COLOCOU MAIS 1 MAÇÃ.

QUANTAS MAÇÃS HÁ AO TODO?

$$3 + 1 = \underline{\quad}$$

HÁ MAÇÃS AO TODO.

2



NO PRATO HÁ 2 BANANAS.

MAMÃE COLOCOU MAIS 3 BANANAS.

QUANTAS BANANAS HÁ AO TODO?

$$2 + 3 = \underline{\quad}$$

HÁ BANANAS AO TODO.




JUNTANDO BRINQUEDOS


MATEMÁTICA - 1º ANO



1



PEDRO TEM 4 CARRINHOS.




GANHOU MAIS 1 CARRINHO.

QUANTOS CARRINHOS PEDRO TEM AGORA?


$$4 + 1 = \underline{\quad}$$

PEDRO TEM CARRINHOS.

2



BIA TEM 3 BONECAS.



ANA TEM 3 BONECAS.

QUANTAS BONECAS ELAS TÊM JUNTAS?

$$3 + 3 = \underline{\quad}$$

ELAS TÊM BONECAS JUNTAS.



JUNTANDO ANIMAIS



MATEMÁTICA - 1º ANO



JUNTAR É COLOCAR DUAS
QUANTIDADES PARA DESCOBRIR
QUANTO TEM AO TODO.



1



NO JARDIM HÁ 4 GATINHOS.



CHEGARAM MAIS 2 GATINHOS.

QUANTOS GATINHOS HÁ AGORA?

$$4 + 2 = \underline{\quad}$$

HÁ GATINHOS AGORA.

2



NA ÁRVORE HÁ 5 PASSARINHOS.

CHEGARAM MAIS 2 PASSARINHOS.

QUANTOS PASSARINHOS HÁ AO TODO?

$$5 + 2 = \underline{\quad}$$

HÁ PASSARINHOS AO TODO.

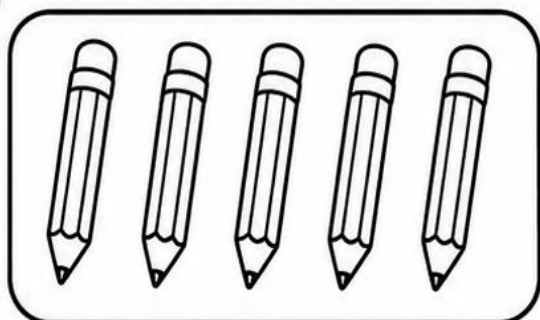


JUNTANDO MATERIAL ESCOLAR

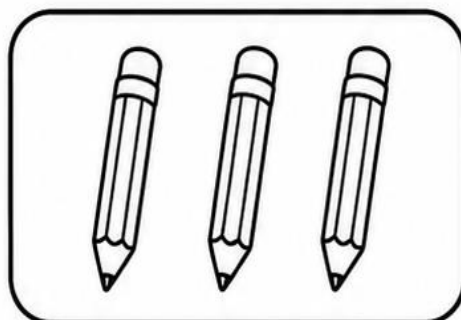
MATEMÁTICA - 1º ANO



1



NA MESA HÁ 5 LÁPIS.



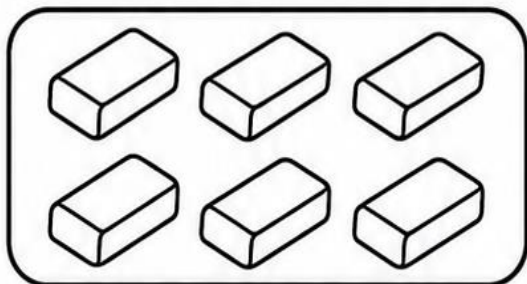
A PROFESSORA COLOCOU MAIS 3 LÁPIS.

QUANTOS LÁPIS HÁ NA MESA?

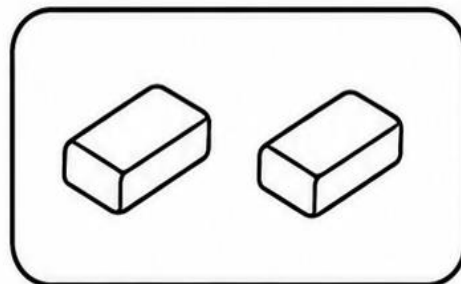
$$5 + 3 = \underline{\quad}$$

HÁ LÁPIS NA MESA.

2



LUCAS TEM 6 BORRACHAS.



MARIA TEM 2 BORRACHAS.

QUANTAS BORRACHAS ELES TÊM JUNTOS?

$$6 + 2 = \underline{\quad}$$

ELES TÊM BORRACHAS JUNTOS.

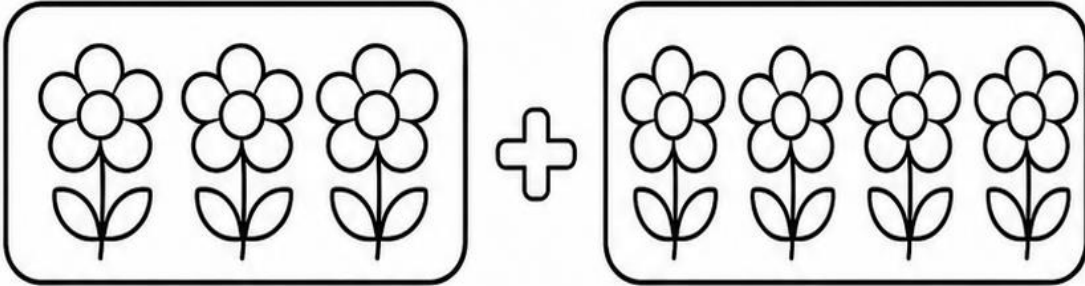


OBSERVE E COMPLETE

MATEMÁTICA - 1º ANO



1



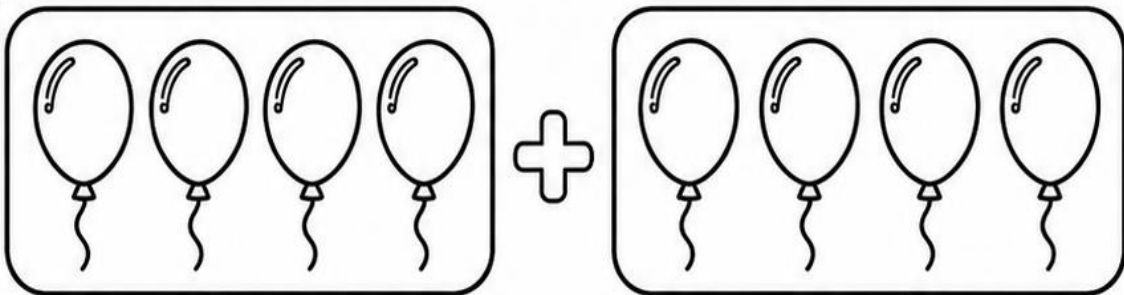
NO JARDIM HÁ ____ FLORES. CHEGARAM MAIS ____ FLORES.

QUANTAS FLORES HÁ AO TODO?

$$\underline{\quad\quad} + \underline{\quad\quad} = \underline{\quad\quad}$$

HÁ ____ FLORES AO TODO.

2



NA FESTA HÁ ____ BALÕES. CHEGARAM MAIS ____ BALÕES.

QUANTOS BALÕES HÁ AO TODO?

$$\underline{\quad\quad} + \underline{\quad\quad} = \underline{\quad\quad}$$

HÁ ____ BALÕES AO TODO.

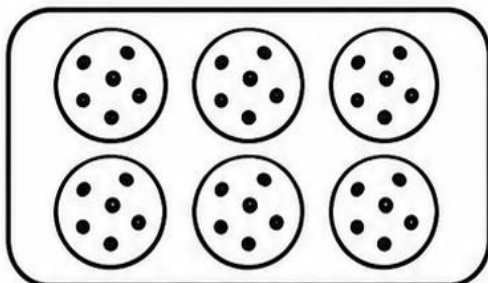


DESAFIO FINAL: EU SEI JUNTAR!

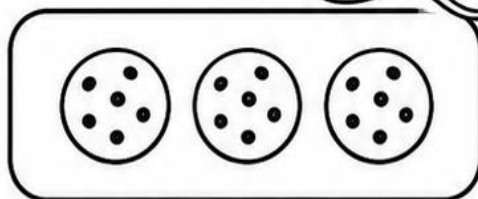
MATEMÁTICA - 1º ANO



1



SOFIA FEZ 6 BISCOITOS.




DEPOIS FEZ MAIS 3 BISCOITOS.

QUANTOS BISCOITOS SOFIA FEZ AO TODO?


$$6 + 3 = \underline{\quad}$$

SOFIA FEZ BISCOITOS AO TODO.

2



NA CAIXA HÁ 5 CORAÇÕES.



A PROFESSORA COLOCOU MAIS 5 CORAÇÕES.

QUANTOS CORAÇÕES HÁ AO TODO?

$$5 + 5 = \underline{\quad}$$

HÁ CORAÇÕES AO TODO.



EU APRENDI A:

- ☆ CONTAR OS DESENHOS.
- ☆ JUNTAR QUANTIDADES.
- ☆ COMPLETAR A SOMA.
- ☆ ESCREVER A RESPOSTA.



PARABÉNS!



7



GABARITO

PROBLEMINHAS MATEMÁTICAS ILUSTRADAS

MATEMÁTICA - 1º ANO



★ PÁGINA 1

VAMOS JUNTAR?

- 1) $2 + 1 = 3$.
TENHO 3 BOLINHAS
AO TODO.
- 2) $2 + 2 = 4$.
HÁ 4 ESTRELAS
AO TODO.

★ PÁGINA 2

JUNTANDO FRUTAS

- 1) $3 + 1 = 4$.
HÁ 4 MAÇÃS
AO TODO.
- 2) $2 + 3 = 5$.
HÁ 5 BANANAS
AO TODO.

★ PÁGINA 3

JUNTANDO BRINQUEDOS

- 1) $4 + 1 = 5$.
PEDRO TEM
5 CARRINHOS.
- 2) $3 + 3 = 6$.
ELAS TÊM
6 BONECAS JUNTAS.

★ PÁGINA 4

JUNTANDO ANIMAIS

- 1) $4 + 2 = 6$.
HÁ 6 GATINHOS
AGORA.
- 2) $5 + 2 = 7$.
HÁ 7 PASSARINHOS
AO TODO.

★ PÁGINA 5

JUNTANDO MATERIAL ESCOLAR

- 1) $5 + 3 = 8$.
HÁ 8 LÁPIS
NA MESA.
- 2) $6 + 2 = 8$.
ELES TÊM 8
BORRACHAS JUNTOS.

★ PÁGINA 6

OBSERVE E COMPLETE

- 1) NO JARDIM HÁ 3 FLORES.
CHEGARAM MAIS 4 FLORES.
 $3 + 4 = 7$.
HÁ 7 FLORES AO TODO.
- 2) NA FESTA HÁ 4 BALÕES.
CHEGARAM MAIS 4 BALÕES.
 $4 + 4 = 8$.
HÁ 8 BALÕES AO TODO.

★ PÁGINA 7

DESAFIO FINAL: EU SEI JUNTAR!

- 1) $6 + 3 = 9$.
SOFIA FEZ 9 BISCOITOS
AO TODO.
- 2) $5 + 5 = 10$.
HÁ 10 CORAÇÕES
AO TODO.



CONFERÊNCIA RÁPIDA:

TODAS AS RESPOSTAS FORAM ORGANIZADAS
POR PÁGINA PARA FACILITAR A CORREÇÃO.





DIREITOS AUTORAIS E USO DO MATERIAL

Material gratuito para uso pedagógico

Este material pertence ao site atividadesdealfabetizacao.com.br e é oferecido gratuitamente para apoiar o trabalho dos professores.



Site oficial: <https://atividadesdealfabetizacao.com.br/>

✓ VOCÊ PODE

- ✓ Baixar e imprimir para usar com seus alunos.
- ✓ Utilizar em sala de aula, reforço escolar e tarefas pedagógicas.
- ✓ Compartilhar com outros professores apenas o link oficial do blog.



✗ NÃO É PERMITIDO

- ✗ Vender, revender ou incluir este material em produtos pagos.
- ✗ Publicar o PDF completo em sites, blogs, grupos, drives ou redes sociais.
- ✗ Remover créditos, logotipo, endereço do site ou marcas de autoria.
- ✗ Alterar o material e redistribuir como se fosse de sua autoria.
- ✗ Copiar as atividades para criar apostilas, cursos ou novos arquivos para distribuição.



Gratidão por respeitar os direitos autorais
e valorizar a criação de materiais educativos gratuitos.

